

# 湘潭市 2016 年初中毕业学业考试

## 地理试题卷

考试时量：90 分钟 满分：100 分

考生注意：

本试卷分试题卷和答题卡两部分，全卷共两道大题，30 道小题。请考生将解答过程全部填（涂）或书写在答题卡上，写在试题卷上无效。考试结束后，将试题卷和答题卡一并上交。

一、选择题（共 25 小题，每小题只有一个正确答案，答对一题计 2 分，共 50 分）

1. 亚洲与非洲的分界线是

- A. 巴拿马运河    B. 黑海和里海    C. 苏伊士运河    D. 乌拉尔山、乌拉尔河

图 1 为亚洲部分地区示意图，读图回答 2~5 题。



图 1 亚洲部分地区

2. 中巴经济走廊建成后，从瓜达尔港运往我国的物资最可能是

- A. 铁矿    B. 石油    C. 汽车    D. 木材

3. 图中甲地所在国家是

- A. 巴基斯坦    B. 缅甸    C. 孟加拉国    D. 印度

4. 图中乙地代表的海峡是

- A. 直布罗陀海峡    B. 马六甲海峡  
C. 霍尔木兹海峡    D. 白令海峡

5. 丙地的气候类型是

- A. 温带海洋性气候    B. 热带沙漠气候  
C. 热带季风气候    D. 亚热带季风气候

6. 关于南极大陆说法正确的有

- ①“冰雪高原”    ②北极熊是南极的主人  
③矿产资源丰富    ④科考最佳时间是 7~8 月

- A. ①③    B. ①④    C. ②③    D. ③④

7. 地跨两大洲，自然资源丰富，重工业发达，大量出口石油、天然气的国家是

- A. 加拿大    B. 俄罗斯    C. 美国    D. 印度

8. 美国经常遭受飓风侵袭，飓风频发与该地地形有直接关系，美国的地势特征是

- A. 南北高，中间低    B. 南高北低  
C. 东西高，中间低    D. 东高西低

9. 第 31 届夏季奥林匹克运动会将于 2016 年 8 月在巴西的里约热内卢举行, 我国奥运军团的运动员在本届奥运会期间, 将不能感受到的风土人情是

- A. 声势浩大的火把节                      B. 热情奔放的桑巴舞  
C. 肤色各异的志愿服务者                D. 精湛的足球表演艺术

10. 约翰家的农场位于英国伦敦郊区, 下列关于约翰家农场说法可信的是

- A. 稻花飘香, 听取蛙声一片              B. 阳光明媚, 棉花盛开  
C. 椰风海韵, 盛产椰子                    D. 绿草如茵, 牛羊成群

11. 有关撒哈拉以南非洲的说法, 不正确的是

- A. 地形以高原为主                          B. 世界黑种人的最大聚居地  
C. 人口自然增长率低                        D. 矿产资源种类多, 储量大

12. 2015 年 10 月 29 日, 中共十八届五中全会决定, 我国实行“全面二孩”政策, 这项政策的调整, 主要目的是为了缓解

- A. 人口老龄化                                B. 人口增长快  
C. 人口分布不均                              D. 人口素质低

13. 我国少数民族主要分布在

- A. 东南、西北和东北                        B. 南方地区  
C. 西南、西北和东北                        D. 北方地区

图 2 是我国某地区气候资料, 图 3 中①②③④表示我国四大地理区域, 回答 14~15 题。

14. 图 2 所示气候类型主要分布在图 3 中的

- A. ①  
B. ②  
C. ③  
D. ④

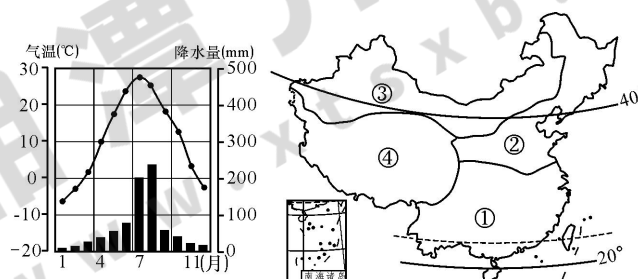


图 2

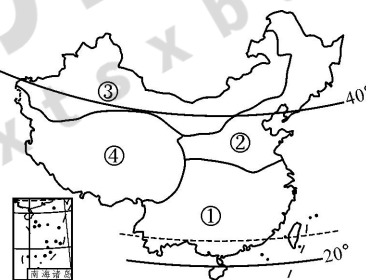


图 3

15. 图 3 中②区域种植的主要农作物是

- A. 甘蔗、花生  
B. 水稻、香蕉  
C. 小麦、玉米  
D. 小麦、青稞

16. 下列河流中, 具有“水量丰富、含沙量小、结冰期长”特征的是

- A. 珠江                      B. 长江                      C. 黄河                      D. 黑龙江

17. 与长江三角洲地区相比, 珠江三角洲地区发展工业的突出优势是

- A. 煤、铁等矿产资源丰富                      B. 多优良港湾, 海上运输便利  
C. 邻近港澳, 很多地方是“侨乡”              D. 高等院校众多, 科技发达

18. 夏秋季节, 我国南部沿海常发生的气象灾害是

- A. 泥石流                      B. 台风                      C. 寒潮                      D. 沙尘暴

19. 俗话说“一方水土养一方人”。下列描述与我国东北三省地区不相符的是


- A. 传统民居屋顶坡度大, 墙体厚, 窗户较小  
B. 山环水绕, 沃野千里  
C. 摔跤、滑冰是人们喜爱的传统体育活动  
D. 农业机械化水平高, 是我国最大的商品粮基地

20. 下列各组地方文化出现在黄河干流附近地区的是

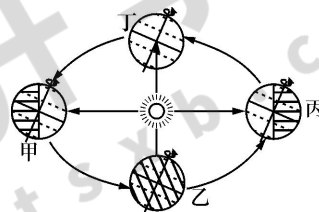
- A. 酥油茶、吊脚楼、蒙古包                      B. 兰州拉面、马头琴、窑洞  
C. 赛龙舟、骑楼、京剧                              D. 坎儿井、那达慕大会、信天游

寒假期间，小明去了我国某省短期旅游，他在该省领略了高原风光，穿越了高山峡谷，还参观了橡胶园。据此完成 21~22 题。

21. 小明所去的省是  
 A. 海南省      B. 云南省      C. 贵州省      D. 广东省
22. 小明所参观的橡胶园比其他国家的橡胶园位置偏北，这是因为  
 A. 山地高原阻挡冷空气南下      B. 气候干燥，太阳辐射强  
 C. 平原广阔，土壤肥沃      D. 河流众多，灌溉条件好
23. “中华水塔”三江源地区所在省是



- A. ①省      B. ②省      C. ③省      D. ④省
24. 下列对台湾省的说法，不正确的是  
 A. 河流短小湍急，水能丰富      B. 以外向型经济为主  
 C. 有“海上米仓”和“东方甜岛”之称      D. 人口、城市主要分布在东部地区
25. 中学生倩倩去黑龙江省漠河观光旅游，发现当地白昼时间超过 16 小时，那么她旅游期间地球在图 4 中的大致位置是



- A. 甲  
 B. 乙  
 C. 丙  
 D. 丁

图 4 地球公转示意图

二、综合题（共 50 分）

26. 图 5 为我国山东半岛某地等高线地形图，读图回答问题。（8 分）

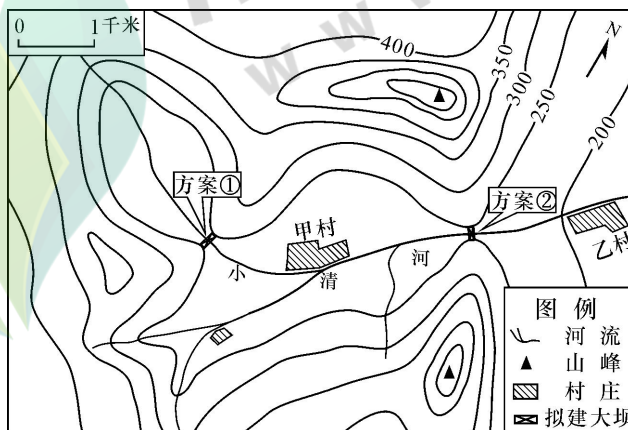


图 5 某地等高线地形图(单位：米)

- (1) 河流在甲乙两村庄之间的流向是\_\_\_\_\_。（2 分）
- (2) 乙村庄与图中最高山峰之间的相对高度可能是\_\_\_\_\_。（单项选择，2 分）  
 A. 214 米      B. 296 米      C. 365 米      D. 426 米
- (3) 多年气候资料显示，小清河 7、8 月份常发生洪涝灾害，简述其原因。（2 分）
- (4) 当地政府计划修建一座水坝，水坝顶部的海拔为 250 米，建坝地址有①②两个方案，请选择其中一个，并评价该方案的优缺点。（2 分）

27. 图6为澳大利亚和日本两国简图，回答问题。(10分)

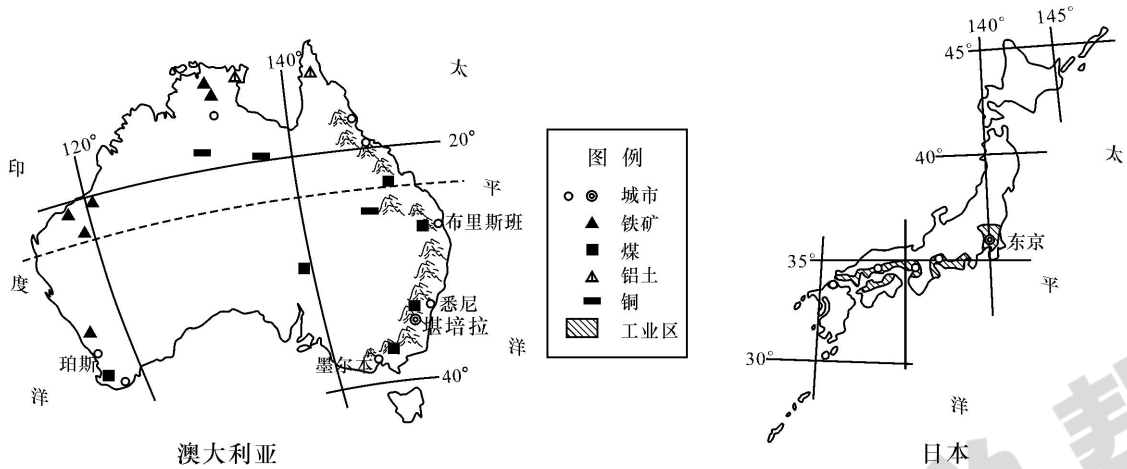


图6 澳大利亚和日本

- (1) 按发展水平的差异划分，两国都属于\_\_\_\_\_国家。(1分)
  - (2) 澳大利亚最大的城市是\_\_\_\_\_，日本的首都是\_\_\_\_\_。(2分)
  - (3) 2016年4月16日，日本九州发生7.3级大地震，简述该国多地震的原因。(2分)
  - (4) 澳大利亚人口和城市主要分布在东南沿海，主要原因是什么？(2分)
  - (5) 日本的人均耕地面积仅为0.05公顷，试说明日本人均耕地面积少的原因。(3分)
28. 阅读阿根廷相关材料，回答问题。(10分)

材料1：阿根廷简图。

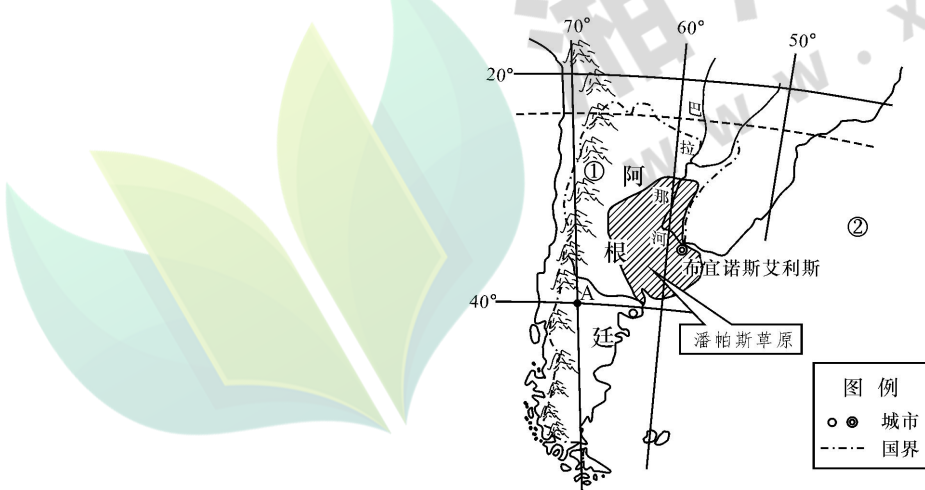


图7 阿根廷简图

材料2：阿根廷是世界粮食和肉类重要生产国和出口国，素有“粮仓肉库”之称。该国东部和中部的潘帕斯草原是著名的农牧业区，牲畜数量约占全国80%，同时也是全国重要的小麦、玉米产区。

材料3：我国和阿根廷贸易往来密切。我国向阿根廷出口机械设备、电子电器设备、服装等产品，从阿根廷进口大豆、原油、皮革等产品。

- (1) 图中A点的经度是\_\_\_\_\_，纬度是\_\_\_\_\_。(2分)

(2) 填写图中数码代表的地理事物。(2分)

山脉：①\_\_\_\_\_ 大洋：②\_\_\_\_\_

(3) 我国 5000 台格力空调从广州运往阿根廷，最佳的运输方式是\_\_\_\_\_。(2分)

(4) 该国东部和中部的潘帕斯草原农牧业发达，其自然原因主要有哪些？(2分)

(5) 该国是世界重要的皮革生产国和出口国，其生产的有利条件是什么？(2分)

29. 图 8 为我国西藏自治区和内蒙古自治区略图，回答问题。(12分)

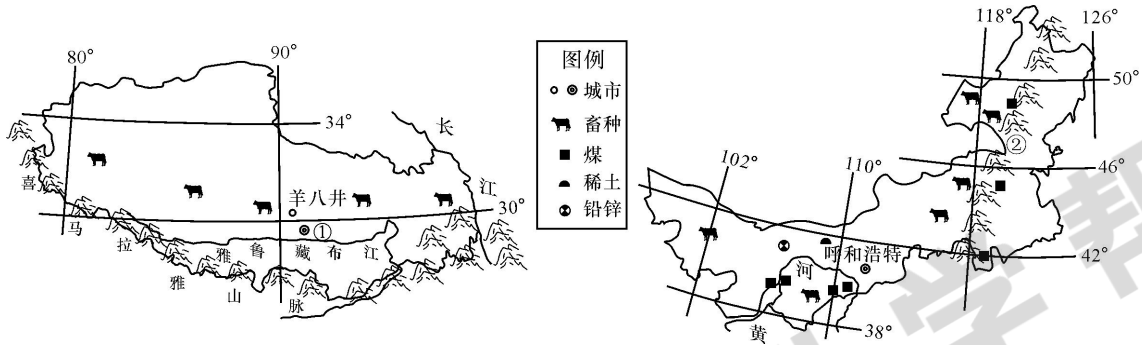


图 8 西藏自治区和内蒙古自治区略图

(1) 填写下列地理事物。(2分)

行政中心：①\_\_\_\_\_ 山脉：②\_\_\_\_\_

(2) 西藏自治区主要的自然特征是\_\_\_\_\_。(2分)

(3) 目前内蒙古自治区存在的主要生态问题是什么？(2分)

(4) 西藏自治区地热资源丰富，羊八井是我国最大的地热电站。简述西藏地热资源丰富的原因。(2分)

(5) 说明内蒙古自治区应如何利用当地自然和人文资源的优势发展特色产业。(回答两个方面即可，4分)

30. 读湖南省略图，回答问题。(10分)

材料 1：湘江是我省最重要的水运河道，它与长江“黄金水道”贯通，有“通江达海”之利。水运运量大、成本低、低碳环保。我省对外贸易发展迅速，外运的机械设备、钢材、瓷器等物资和进口的原材料，为了节约成本，往往选择水运。

材料 2：湘潭市某村土地利用类型变化。

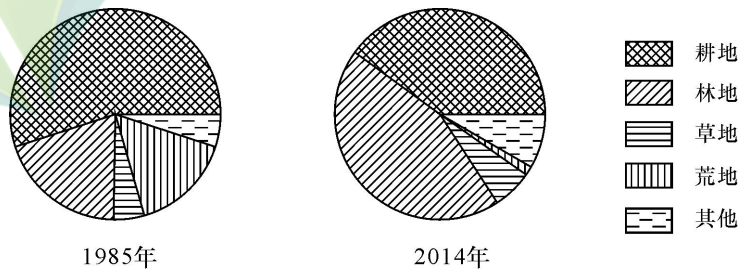


图 9 某村的土地利用结构变化



材料3：湖南省略图。

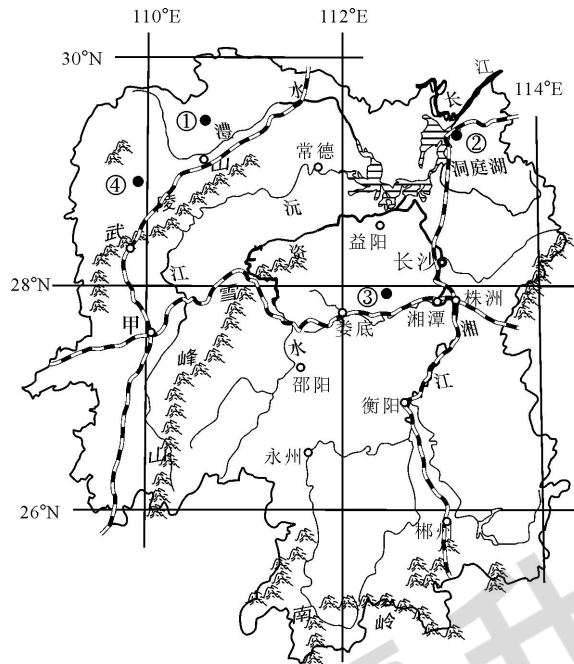

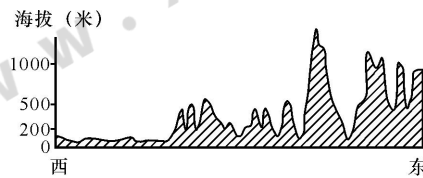


图10 湖南省略图

- (1) 图10中甲处是我省重要的铁路枢纽城市\_\_\_\_\_。(1分)
- (2) 甲乙两幅地形剖面图中，能正确表示我省沿28°N地面起伏的是\_\_\_\_\_地形剖面图。(1分)



甲地形剖面图



乙地形剖面图

- (3) 湘潭某中学地理学科兴趣小组，计划在暑假组织一次省内旅游考察活动，下列说法不正确的是\_\_\_\_\_。(单项选择，2分)

- A. 到①地可以游览凤凰古城      B. 到②地可参观岳阳楼  
C. 到③地可以参观伟人故里韶山      D. 到④地可考察世界文化遗产永顺老司城遗址

- (4) 湘潭市某村自1985年开始注重生态环境治理和保护，目前生态环境良好。结合材料2，说明该村改善生态环境的主要措施。(2分)

- (5) 试述湘江水运对湖南经济发展的有利影响。(回答两个方面即可，4分)

湘潭市 2016 年初中毕业学业考试

地理试题参考答案及评分标准

一、单项选择题（每小题 2 分，共 50 分）

题号	1	2	3	4	5	6	7	8	9	10	11	12	13	14	15	16	17	18	19	20	21	22	23	24	25
答案	C	B	D	B	B	A	B	C	A	D	C	A	C	B	C	D	C	B	C	B	B	A	D	D	A

二、综合题（共 50 分）

26.（8 分）

- (1) 自西南向东北（2 分） (2) C（2 分） (3) 7、8 月份降水多，且强度大（2 分）  
(4)（优点和缺点各记 1 分，共 2 分，其他答案言之有理酌情给分）

方案① 优点：水坝建成蓄水后不会淹没村庄，拆迁安置等费用少；缺点：库区容量较小。

方案② 优点：库区容量大；缺点：水坝建成蓄水后，淹没村庄，拆迁工作量大。

27.（10 分）

- (1) 发达（1 分） (2) 悉尼（1 分） 东京（1 分） (3) 位于亚欧板块与太平洋板块交界处（或位于环太平洋火山地震带）（2 分） (4) 开发历史早，经济发达；气候适宜；海陆交通便利（答出一点记 2 分，其他答案言之有理酌情给分） (5) 国土面积狭小；地形以山地丘陵为主，平原面积狭小；人口众多（答出一点记 1 分，共 3 分）

28.（10 分）

- (1) 70°W（1 分） 40°S（1 分） (2) 安第斯山脉（1 分） 大西洋（1 分）  
(3) 海运（2 分） (4) 气候温暖湿润；地势平坦；水源较足（答出一点记 2 分，其他答案言之有理酌情给分） (5) 畜牧业发达，为皮革生产提供了丰富的原材料（2 分，其他答案言之有理酌情给分）

29.（12 分）

- (1) 拉萨（1 分） 大兴安岭（1 分） (2) 高寒（2 分） (3) 土地荒漠化（2 分）  
(4) 板块交界处，地壳活跃（2 分） (5) 利用丰富的草场资源发展牧业和农畜产品加工业（毛纺织工业和乳制品业）；利用丰富的有色金属和煤炭能源发展有色金属、能源、化工、冶金等支柱工业；利用草原风光和民族风情发展特色旅游业等（每点 2 分，共 4 分，其他答案言之有理酌情给分）

30.（10 分）

- (1) 怀化（1 分） (2) 甲（1 分） (3) A（2 分）  
(4) 植树种草，退耕还林还草；调整农村能源消费结构等。（答出一点记 2 分，其他答案言之有理酌情给分） (5) 湘江水量丰富，四季通航，航运条件好；干流纵贯南北，通江达海；湘江流域人口稠密，集中分布了湖南的主要城市，经济发达，货运量大（答出一点记 2 分，共 4 分，其他答案言之有理酌情给分）