

# 2017年湘潭市初中毕业学业考试

## 地理试题卷

考试时量：90分钟 满分：100分

考生注意：

本试卷分试题卷和答题卡两部分，全卷共两道大题，30道小题。请考生将解答过程全部填（涂）或书写在答题卡上，写在试题卷上无效。考试结束后，将试题卷和答题卡一并上交。

一、选择题（共25小题，每小题只有一个正确答案，答对一题计2分，共50分）

1. 图1为某城区变化示意图。城区由图a向图b变化的主要影响因素是

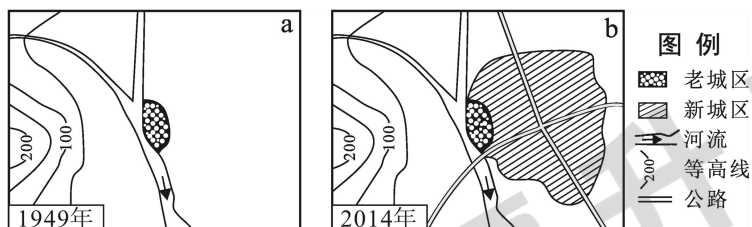


图1

- A. 交通                      B. 河流                      C. 气候                      D. 地形
2. 影响韩国年降水量比蒙古多的主要原因是  
A. 纬度因素                      B. 地形因素                      C. 海陆位置                      D. 地球形状
3. 中南半岛上的河流大多向南流入太平洋或印度洋，这说明中南半岛  
A. 南高北低                      B. 北高南低  
C. 东高西低                      D. 西高东低
4. 日本的工业对外依赖性强，主要原因是  
A. 多港湾，海运便利                      B. 人口多，城市密集  
C. 经济发达，科技先进                      D. 国内资源贫乏，市场狭小
5. 关于俄罗斯的叙述，正确的是  
A. 从乌拉尔山脉向西，气候大陆性增加                      B. 资源丰富，轻重工业都很发达  
C. 领土大部分位于亚洲，却是传统的欧洲国家                      D. 平原地区的农业均很发达

图2为巴西和澳大利亚两国略图，读图回答6~7题。

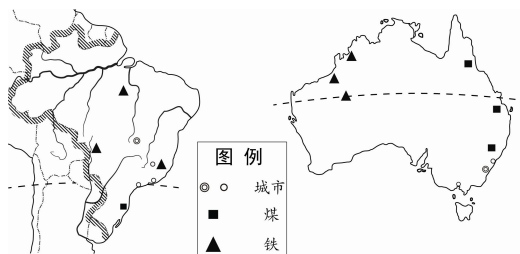


图2

6. 关于两国共同地理特征的叙述，正确的是
- 赤道横穿国土
  - 居民主要为白种人，通用英语
  - 城市、人口集中分布在北部地区
  - 都有丰富的铁矿资源
7. 关于澳大利亚地理特征的叙述，正确的是
- 西临印度洋，南临太平洋
  - 最大城市是堪培拉
  - 羊毛、小麦的产量居世界首位
  - 有鸭嘴兽、袋鼠等多种独有动物
8. 有关撒哈拉以南非洲的叙述，不正确的是
- 黑种人的故乡
  - 地形以高原为主
  - 自然资源丰富
  - 出口以工业制成品为主
9. 下列情况不可能在南极地区考察过程中出现的是
- 大风暴雪导致迷路
  - 在森林中遭受猛兽袭击
  - 酷寒造成冻伤
  - 冰川裂隙扩大导致伤亡

“一带一路”是我国发展与沿线国家的经济合作伙伴关系，共同打造政治互信、经济融合、文化包容的共同体。图3为“丝绸之路经济带和21世纪海上丝绸之路”线路简图，读图完成10~11题。

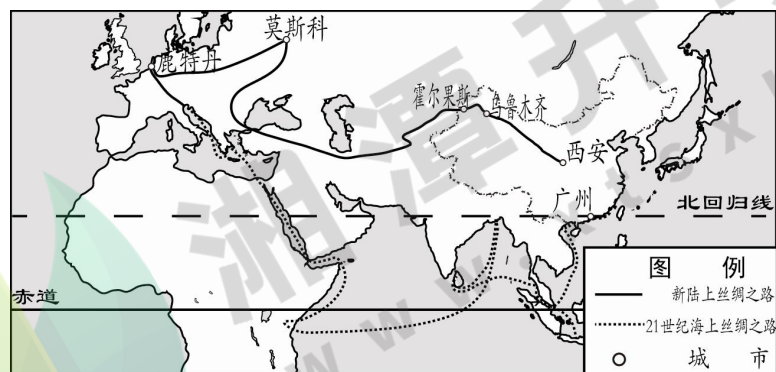


图3

10. 新疆定位为丝绸之路经济带的核心区之一，下列不是新疆优势条件的是
- 位于我国西北边陲，与多个国家为邻，战略地位十分重要
  - 土地资源和矿产资源丰富
  - 降水丰富，草场广阔，农牧业发达
  - 自然风光优美，民族风情独特，旅游资源丰富
11. “21世纪海上丝绸之路”沿途经过的海洋、海峡和运河正确的一组是
- 南海、里海、马六甲海峡、苏伊士运河
  - 苏伊士运河、红海、波斯湾、白令海峡
  - 南海、马六甲海峡、红海、苏伊士运河
  - 加勒比海、苏伊士运河、马六甲海峡、印度洋
12. 有关我国疆域、人口和民族的叙述，正确的是
- 从南向北跨越热带、北温带和北寒带
  - 位于亚洲西部、太平洋东岸
  - 人口分布大致以黑河—腾冲一线为界，西多东少
  - 民族分布具有“大散居、小聚居、交错杂居”的特点

2017年4月20日，搭载天舟一号货运飞船的长征七号遥二运载火箭，在我国文昌航天发射场成功发射。图4为“我国四大卫星发射基地分布图”，读图完成13~14题。

13. 酒泉、文昌、西昌、太原所在省的简称分别是

- A. 陇、琼、川、晋
- B. 陕、琼、川、晋
- C. 陇、海、川、鲁
- D. 豫、琼、滇、冀

14. 酒泉所在省区的主要生态环境问题是

- A. 水土流失
- B. 森林破坏
- C. 荒漠化
- D. 水污染

15. 长江、黄河和澜沧江均发源于

- A. 青藏高原
- B. 天山
- C. 云贵高原
- D. 黄土高原

图5为某地等高线简图(单位:米),读图完成16~17题。

16. 甲山山顶的海拔可能为

- A. 710米
- B. 670米
- C. 570米
- D. 510米

17. 图中乙河的流向大致是

- A. 由西南流向东北
- B. 由东流向西
- C. 由西北流向东南
- D. 由西流向东

18. 图6为经纬网图,图中虚线为南回归线。

下列叙述正确的是

- A. A地经纬度是 $60^{\circ}\text{S}, 150^{\circ}\text{W}$
- B. B地位于东半球
- C. A地位于C地的西南方
- D. A地比B地早迎来日出

19. 下列叙述与台湾省地理环境相符的是

- A. 夏秋季节易受台风侵袭
- B. 人口和城市主要分布在东部沿海
- C. 河流短小,水能资源贫乏
- D. 居民以朝鲜族为主

20. 2017年4月1日,被定义为“千年大计,国家大事”的雄安新区设立。读图7,关于雄安新区的说法,正确的是

- A. 濒临渤海
- B. 位于华北平原
- C. 属温带大陆性气候
- D. 黄河流经,水源充足

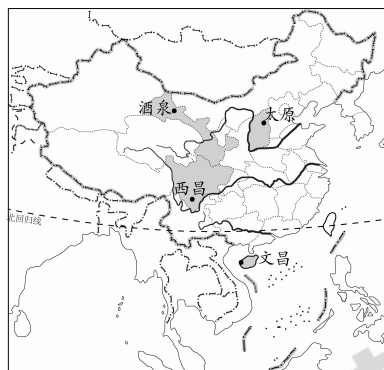
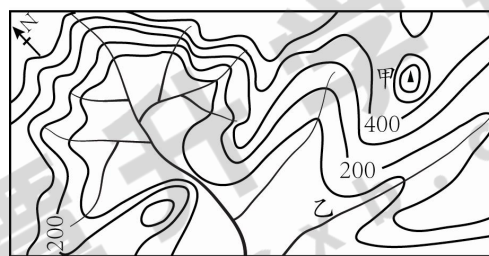


图4



图例: 河流 山峰 比例尺: 0 1km

图5

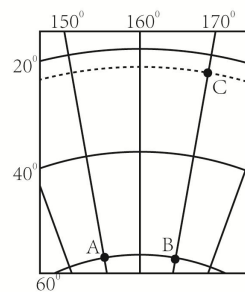


图6

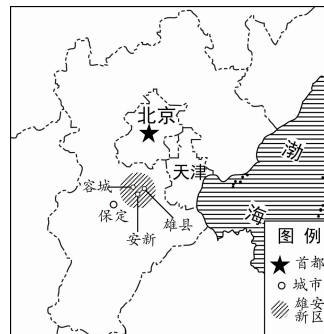


图7

21. 关于我国耕地、水资源分布的叙述, 正确的是
- A. 南方耕地多, 水资源多                      B. 北方耕地少, 水资源多  
C. 南方耕地多, 水资源少                      D. 北方耕地多, 水资源少
22. 珠江三角洲的东莞成为典型“移居”城市, 其主要原因是
- A. 地理位置优越                                  B. 经济发达, 就业机会多  
C. 海陆交通便利                                  D. 水热充足, 气候宜人
23. 陕西省的特色饮食是
- A. 南宁老友粉      B. 兰州拉面                      C. 西安羊肉泡馍      D. 郑州烩面

2016年中国“二十四节气”被正式列入联合国教科文组织“人类非物质文化遗产名录”。

图8为地球公转示意图(①②③④为两分两至日), 完成24~25题。

24. 6月16日地理中考时, 地球公转位置最接近图中
- A. ①      B. ②      C. ③      D. ④
25. 下列说法正确的是
- A. 当地球公转到①位置时, 湘潭一年中正午时刻影子最短
- B. 当地球公转到②位置时, 湘潭春暖花开
- C. 当地球公转到③位置时, 巴西高原草木枯黄
- D. 当地球公转到④位置时, 南极昆仑科考站(80° 25' S、77° 07' E)出现极昼

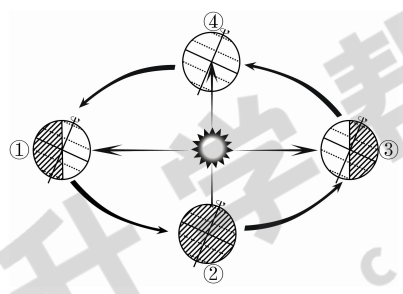


图8

## 二、综合题 (50分)

26. 读美国略图(图9), 回答:(10分)

- (1) 美国本土北面的邻国是\_\_\_\_\_, 美国的两个海外州中, 濒临北冰洋和太平洋的是\_\_\_\_\_州。(2分)
- (2) 流经美国中部最大的河流是\_\_\_\_\_, 美国农业生产实现地区专门化, 农业带①是\_\_\_\_\_带。(2分)
- (3) 美国太平洋沿岸最大的港口城市是\_\_\_\_\_。(1分)
- (4) 图10中甲、乙两幅地形剖面图, 能正确表示美国沿40°N地面起伏的是\_\_\_\_\_。(1分)

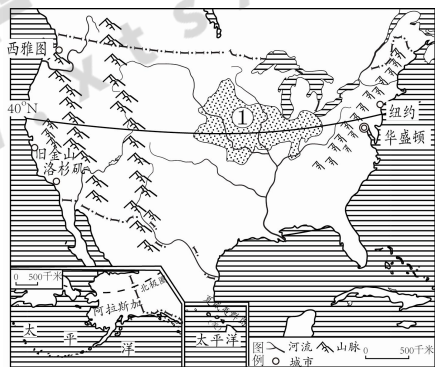


图9

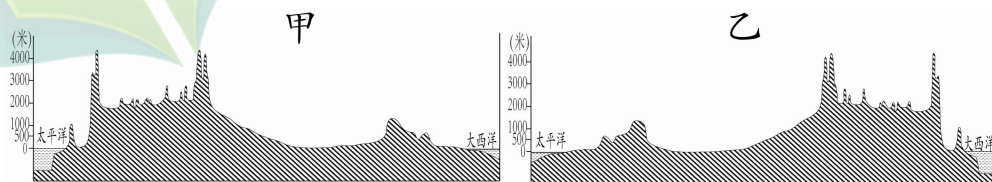


图10

汽车工业是美国传统的支柱产业之一, 多年来美国在东南亚投资兴办了很多汽车轮胎厂。

- (5) 说明美国在东南亚兴建轮胎厂的原因。(4分)





29. 读安徽省简图（图 13），回答。（10 分）

- (1) 填写图中字母所代表的地理名称。（2 分）  
城市：A \_\_\_\_\_ 河流：B \_\_\_\_\_
- (2) C 是著名的旅游胜地 \_\_\_\_\_，它以“奇松、怪石、云海、温泉”四绝闻名于世。（2 分）
- (3) 举两例说明淮河是我国重要的地理分界线。（2 分）
- (4) 结合图中信息，简述马鞍山发展钢铁工业的有利条件。（2 分）

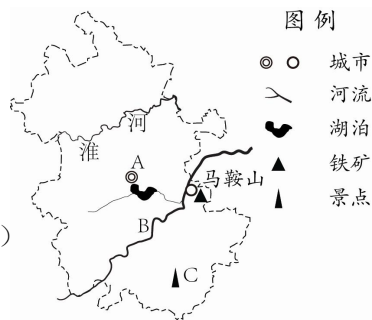


图 13

长江三角洲城市群作为全国经济发展最具活力的区域之一，目前许多城市都面临着发展经济与保护环境的双重压力，为保证经济的持续增长和保护环境双管齐下，就要积极实施产业转移战略。安徽省依据自身独特的地理位置，就近接受长江三角洲城市群的产业转移。

- (5) 结合所学知识，简述这种转移给安徽省带来哪些有利的影响。（2 分）

30. 读湖南省西部的怀化市、张家界市和湘西土家族苗族自治州略图（图 14），回答。（10 分）

- (1) 湖南的邻省①是 \_\_\_\_\_，图中山脉②是 \_\_\_\_\_。（2 分）
- (2) 湖南著名的湘、资、沅、澧四条河流中，流经图示地区的是澧水和 \_\_\_\_\_ 江。（1 分）
- (3) 怀化地处 \_\_\_\_\_ 高铁、焦柳铁路和渝怀铁路的交汇处，是我国重要的铁路枢纽。（1 分）
- (4) 图示地区旅游资源十分丰富，③④两地中，世界自然遗产武陵源风景区位于 \_\_\_\_\_ 地，国家历史文化名城凤凰古城位于 \_\_\_\_\_ 地。（2 分）
- (5) 湖南西部地区多见的风雨桥（图 15）是侗族的一种独特建筑，体现了自然与人文的和谐。风雨桥所反映的当地自然环境特点是 \_\_\_\_\_、\_\_\_\_\_。（2 分）



图 14

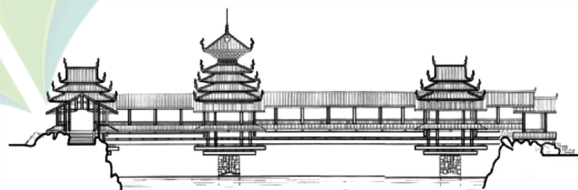


图 15

- (6) 图 14 所示地区地形以山地为主，生态环境脆弱，请对该地区生态环境的保护提出合理化的建议。（2 分）

# 湘潭市 2017 年初中毕业学业考试

## 地理试题参考答案及评分标准

### 一、选择题（共 25 小题，每小题只有一个正确答案，答对一题计 2 分，共 50 分）

|    |    |    |    |    |    |    |    |    |    |    |    |    |    |
|----|----|----|----|----|----|----|----|----|----|----|----|----|----|
| 题次 | 1  | 2  | 3  | 4  | 5  | 6  | 7  | 8  | 9  | 10 | 11 | 12 | 13 |
| 答案 | A  | C  | B  | D  | C  | D  | D  | D  | B  | C  | C  | D  | A  |
| 题次 | 14 | 15 | 16 | 17 | 18 | 19 | 20 | 21 | 22 | 23 | 24 | 25 |    |
| 答案 | C  | A  | B  | B  | C  | A  | B  | D  | B  | C  | A  | A  |    |

### 二、综合题（50 分）

#### 26、（10 分）

- (1) 加拿大 阿拉斯加（各 1 分） (2) 密西西比河 玉米（各 1 分）  
(3) 洛杉矶（1 分） (4) 甲（1 分） (5) 东南亚盛产天然橡胶，原料充足（2 分）；  
劳动力资源丰富，工资水平低（2 分）

#### 27、（10 分）

- (1) 直布罗陀海峡 地中海（各 1 分） (2) ④ ②（各 1 分）  
(3) 亚欧板块和非洲板块碰撞挤压（2 分） (4) 冬季水量大，夏季水量小（4 分）

#### 28、（10 分）

- (1) 哈尔滨 贺兰山（各 1 分） (2) A（2 分） (3) 有黄河水灌溉；平原地形；  
土壤肥沃；夏季高温；光照充足（任答对一个要点记 2 分，满分 4 分） (4) 保护湿地的  
生态环境（或湿地具有涵养水源、蓄洪防旱、调节气候、维持生物多样性等多种功能）（2 分）

#### 29、（10 分）

- (1) 合肥 长江（各 1 分） (2) 黄山（2 分）  
(3) ①南方地区和北方地区的分界线； ②亚热带和暖温带的分界线； ③亚热带季风气候  
和温带季风气候的分界线； ④一月均温高于 0°C 和低于 0°C 的分界线（或一月 0°C 等温线经  
过淮河）； ⑤年降雨量多于或少于 800mm 地区的分界线（年降雨量 800mm 等值线经过淮河）；  
⑥湿润地区和半湿润地区分界线； ⑦河流有无结冰期的分界线； ⑧常绿阔叶林和落叶阔叶  
林的分界线； ⑨ 水田和旱地的分界线； ⑩主食为大米或面粉的分界线等等（每例 1 分，  
任答两例即可） (4) 接近铁矿石（或接近原料）；靠近河流（或交通便利）；消费市场广阔  
等（每要点 1 分，任答对两点得 2 分） (5) 有利于安徽省产业结构升级；提供更多的就  
业机会；带动相关产业的发展；带动安徽经济的发展；促进安徽省基础设施的完善等（任答  
对一点得 2 分，其它答案言之有理可酌情记分）

#### 30、（10 分）

- (1) 贵州省 雪峰山（各 1 分） (2) 沅江（1 分） (3) 沪昆（1 分） (4) ③ ④  
（各 1 分） (5) 降水丰富（1 分），河流众多（1 分） (6) 封山育林；植树造林；退耕还  
林；调整农业结构；推进生态农业的建设等（每点记 1 分，满分为 2 分，其它答案言之有理  
可酌情记分）。